



المديرية العامة للتربية والتعليم بمحافظة جنوب الباطنة
الامتحان النهائي للصف السابع الأساسي
للعام الدراسي ١٤٣٦/١٤٣٧ هـ - ٢٠١٥ / ٢٠١٦ م
الفصل الدراسي الأول - الدور الأول

• المادة: الدراسات الاجتماعية
• زمن الإجابة: ساعة ونصف
• تنبيه: الأسئلة في (٥) صفحات

الاسم :
الصف :

أجب عن جميع الأسئلة الآتية

السؤال الأول: ضع دائرة حول الحرف الدال على الإجابة الصحيحة من بين البدائل المعطاة :

١- المشروع الذي يُعد من الممتلكات الخاصة:

(أ) سد وادي الجزي (ب) محمية جدة الحراسيس

(ج) مصنع أحمد للحلوى (د) مجمع بوشر الرياضي

٢- الحضارة التي كانت ملازمة لحضارة مجان وذكرت في اللوحات السومرية والأكدية:

(أ) أم النار (ب) دلمون (ج) الفرعونية (د) ميلوفا

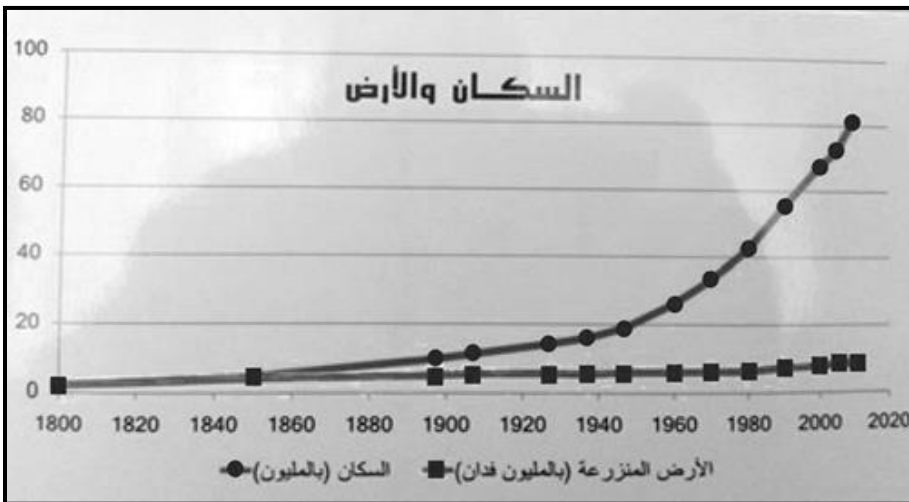
٣- الوصف الصحيح للزيادة السكانية بالنسبة للأراضي المزروعة في التمثيل البياني الذي أمامك :

أ- منخفضة

ب- متذبذبة

ج- ثابتة

د- مرتفعة

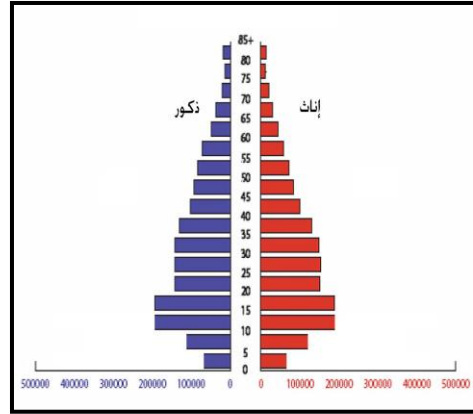
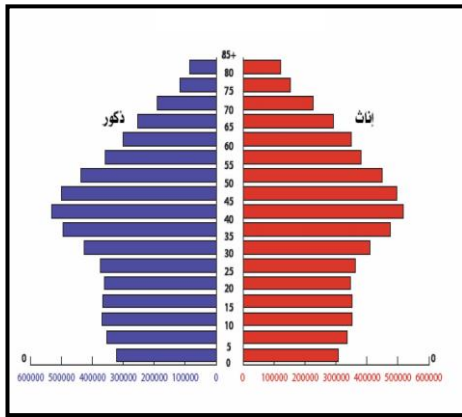
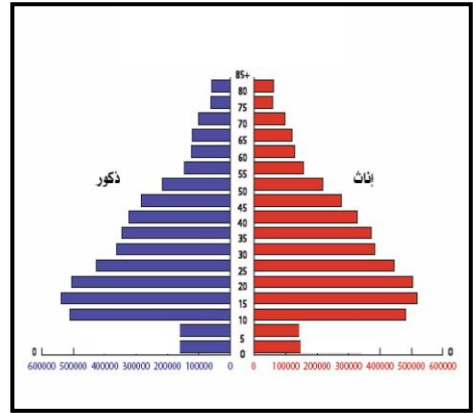
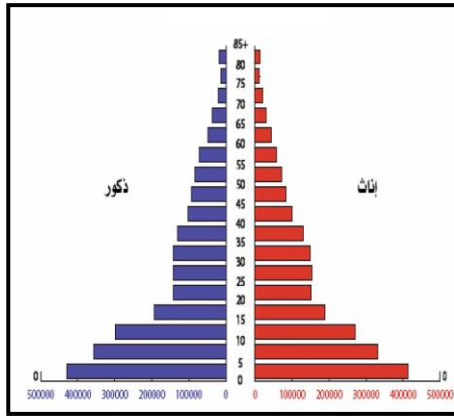


(٢)

تابع الامتحان النهائي للصف السابع
للعام الدراسي ١٤٣٦/١٤٣٧ هـ — ٢٠١٥ / ٢٠١٦ م
امتحان مادة: الدراسات الاجتماعية الفصل الدراسي الأول - الدور الأول

تابع السؤال الأول:

٤- الهرم السكاني الذي يمثل المجتمع الفتى:



٥- الترتيب الصحيح لمراحل تطور عصور الحضارات القديمة من الأقدم إلى الأحدث:

- (أ) الحجري القديم - الحجري الحديث - الحديدي - البرونزي
(ب) الحجري القديم - البرونزي - الحديدي - الحجري الحديث
(ج) الحجري القديم - الحجري الحديث - البرونزي - الحديدي
(د) الحجري القديم - الحديدي - الحجري الحديث - البرونزي

٦- الموقع الأثري الذي عُثِر فيه على حوالي (١٠٠) مقبرة مبنية من الحجر المحلي في شبه الجزيرة العربية:



- (أ) ١
(ب) ٢
(ج) ٣
(د) ٤

(٣)

تابع الامتحان النهائي للصف السابع
للعام الدراسي ١٤٣٦/١٤٣٧ هـ — ٢٠١٥ / ٢٠١٦ م
امتحان مادة: الدراسات الاجتماعية الفصل الدراسي الأول - الدور الأول

تابع : السؤال الأول:-

٧- الدولة التي تعكس أعلى مؤشر للتقدم الصحي والاجتماعي، حسب بيانات الجدول الآتي:

الدولة	سلطنة عُمان	الجمهورية اليمنية	الصومال	سوريا
معدل وفيات الأطفال الرضع بالآلاف	٨	٥٧	١٠٨	٢٠

(أ) سلطنة عُمان (ب) الجمهورية اليمنية (ج) الصومال (د) سوريا

٨- السبب الرئيس في حادث المرور في الصورة المقابلة:



(أ) ظروف الطقس

(ب) الازدحام

(ج) التجاوز

(د) الوقوف المفاجئ

السؤال الثاني:- أولاً: اكتب المصطلح أو المفهوم الصحيح لكل عبارة مما يأتي:

.....	١- هم الأفراد في سن العمل من الذكور والإناث سواءً أكانوا عاملين أم باحثين عن عمل.
.....	٢- سلامة الإنسان من أي مرض وقيامه بوظائفه على أكمل وجه، وقدرته على ممارسة الأنشطة الاجتماعية والثقافية والرياضية في المجتمع.

ثانياً: من خلال دراستك لمراحل تطور الحضارة القديمة، أجب عن الأسئلة الآتية:

١- فرق بين العصر الحجري القديم ، والعصر الحجري الحديث من حيث الظروف الطبيعية:

العصر الحجري الحديث	العصر الحجري القديم	وجه المقارنة
.....	الظروف الطبيعية

(٤)

تابع الامتحان النهائي للصف السابع
للعام الدراسي ١٤٣٦/١٤٣٧ هـ — ٢٠١٥ / ٢٠١٦ م
امتحان مادة: الدراسات الاجتماعية الفصل الدراسي الأول - الدور الأول

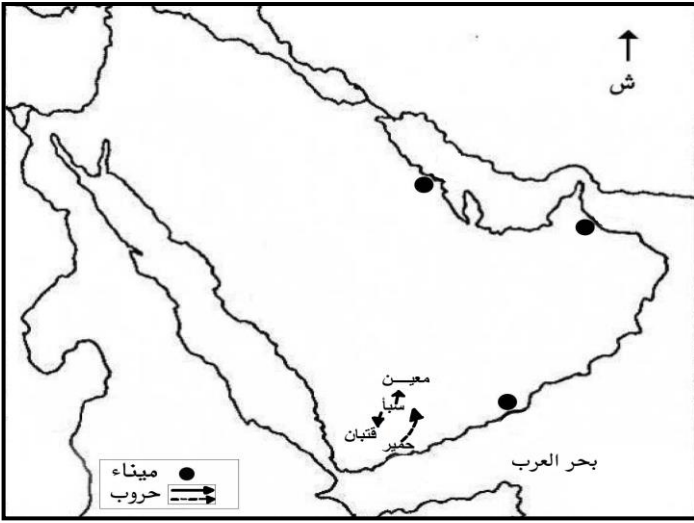


تابع السؤال الثاني :-

٢- صف النظام الاقتصادي الذي ظهر قبل العصر الحديدي والذي تمثله الصورة المقابلة .

.....
.....

ثالثاً : أمامك خريطة شبه الجزيرة العربية، ادرسها جيداً ثم أجب عن الأسئلة التي تليها:



١- وقع على الخريطة الميناء التجاري العُماني الذي اتخذه الفرس مركزاً لتجارتهم البحرية.

٢- ضع دائرة حول حضارة بلاد ما بين النهرين.

٣- ما نوع العلاقات السياسية التي ربطت بين دول اليمن القديمة؟

.....

السؤال الثالث: أولاً: انظر إلى الخبر الصحفي المقابل، ثم أجب عن الأسئلة التي تليه:

٨٣ ألفاً مواليد جدد بالسلطنة خلال عام

أوضحت نشرة إحصاءات المواليد والوفيات الصادرة عن المركز الوطني للإحصاء والمعلومات أن عدد المواليد الأحياء في عام ٢٠١٤ بلغ ٨٢٩٨١ مولوداً بينهم ٧٦٦٩٠ عمانياً و ٦٢٩١ وافداً، مرتفعاً بذلك عن عام ٢٠١٣ بحوالي ٣٥٦٤ مولوداً فيما بلغ عدد الوفيات ٧٨١٩ حالة وفاة.

جريدة عُمان، ٨ أكتوبر، ٢٠١٥ م

١- استنتج اثنين من الخصائص السكانية لسلطنة عُمان من الخبر الصحفي.

أ-

ب-

٢- تعد الزيادة الطبيعية الواردة في الخبر الصحفي

موجبة " فسر إجابتك.

.....

(٥)

تابع الامتحان النهائي للصف السابع
للعام الدراسي ١٤٣٦/١٤٣٧ هـ — ٢٠١٥ / ٢٠١٦ م
امتحان مادة: الدراسات الاجتماعية الفصل الدراسي الأول - الدور الأول

تابع السؤال الثالث :-

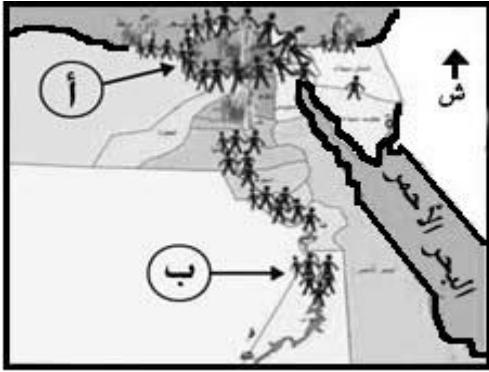
ثانياً: ادرس الرسم الكاريكاتيري الذي أمامك، ثم وزع نوع الهجرة من حيث (الداخلة إليها / الخارجة منها) على المناطق

الآتية في الجدول:



نوع الهجرة (الداخلة إليها / الخارجة منها)	المنطقة
	١- الوطن العربي
	٢- أوروبا

ثالثاً: أدرس خريطة الكثافة السكانية في مصر، ثم أجب عن الأسئلة التي تليها:



١- أي الجهات أكثر تركزاً للسكان في الخريطة؟

٢- " يتحكم عامل التضاريس في توزيع السكان"، هل ينطبق هذا العامل

على توزيع سكان مصر؟ نعم لا

فسر إجابتك.

٣- ما المشكلة السكانية المتوقع أن تحدث في المنطقة (أ) مستقبلاً؟

.....

السؤال الرابع: أولاً: : اذكر اثنين من الممارسات الخاطئة التي تضر بصحة الإنسان.

أ- ب -

ثانياً: اقترح اثنين من الأنظمة التي تحد من الحوادث المرورية .

أ- ب-

ثالثاً: بالنظر إلى الرسم التوضيحي الذي أمامك، أجب عن الأسئلة التي تليه:

١- اذكر مورد طبيعي متجدد غير موجود في الرسم التوضيحي.

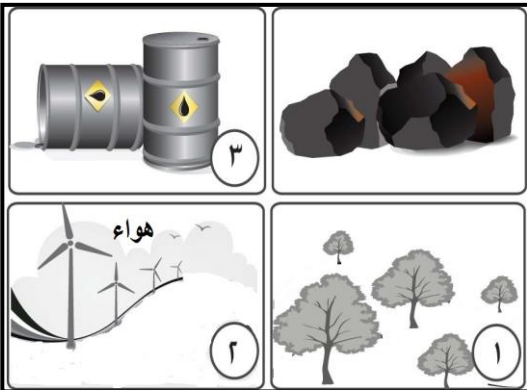
٢- ما النتيجة المترتبة للزيادة السكانية على الموردين رقم (٢) ، و (٣)؟

- المورد رقم (٢) :

- المورد رقم (٣) :

٣- اقترح مشروعاً استثمارياً للمورد الطبيعي المشار إليه بالرقم (١)؟

.....



انتهت الأسئلة مع تمنياتنا لكم بالتوفيق والنجاح،